

Souřadnicové výpočty I.

Zadání C6

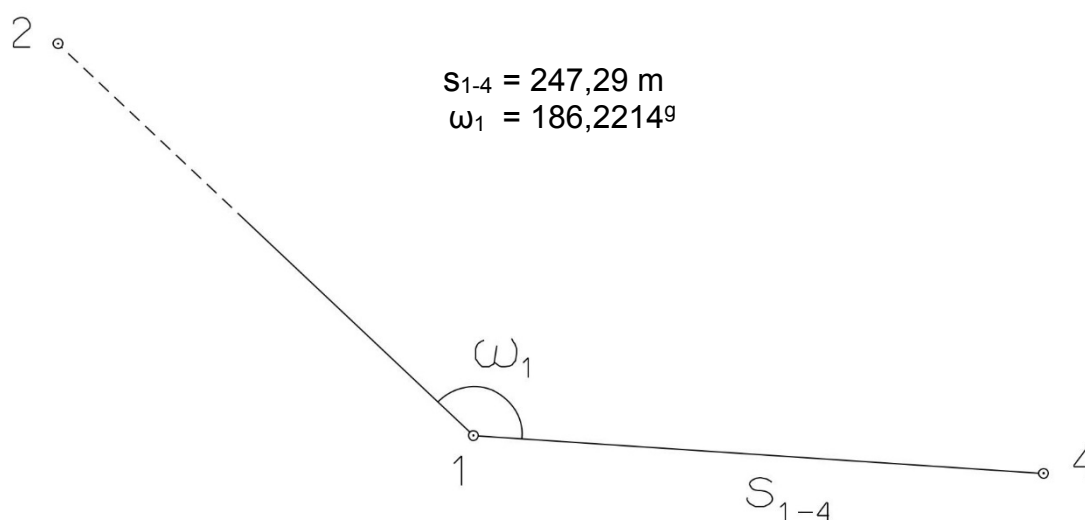
1. Výpočet směrniců a vzdáleností

Jsou dány body P_1 , P_2 a P_3 svými souřadnicemi (viz. tabulka níže). Vypočítejte směrníky σ_{1-2} , σ_{1-3} , σ_{2-3} a délky stran s_{1-2} , s_{1-3} , s_{2-3} . Výsledné hodnoty úhlů uvádějte v gonech (grádech) s přesností na desetitisíciny (čtyři desetinná místa) a výsledné vzdálenosti uvádějte s přesností na cm (dvě desetinná místa).

Bod	Y (m)	X (m)
P_1	548 020,08	1 137 914,20
P_2	548 080,72	1 137 928,76
P_3	547 111,18	1 137 216,62

2. Výpočet rajónu

Jsou dány body P_1 a P_2 svými souřadnicemi (viz. tabulka nahoře). Na bodě P_1 byl zaměřen úhel ω_1 a délka strany s_{1-4} . Vypočítejte souřadnice bodu P_4 .



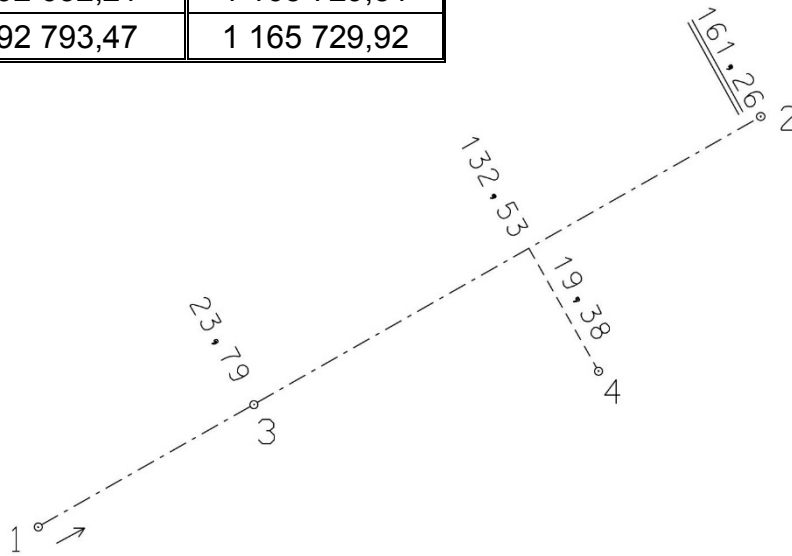
Souřadnicové výpočty II.

Zadání C6

1. Výpočet bodu na přímce a na kolmici

Jsou dány body P_1 a P_2 svými souřadnicemi (viz. tabulka). Vypočítejte souřadnice bodů P_3 a P_4 , které jsou zaměřeny ortogonálně (kolmicovou) metodou na měřickou přímku určenou body P_1 a P_2 (viz. obrázek pod tabulkou).

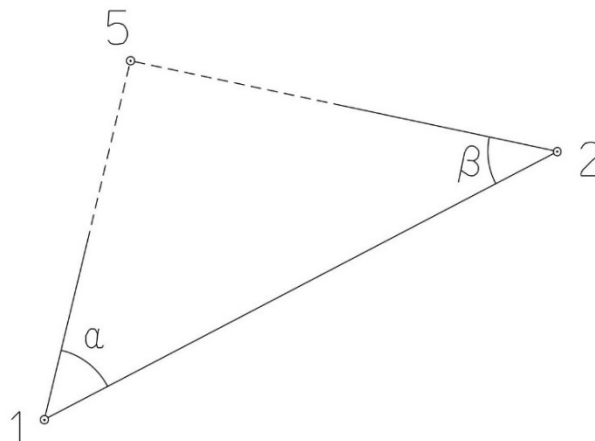
Bod	Y (m)	X (m)
P_1	592 632,21	1 165 729,51
P_2	592 793,47	1 165 729,92



2. Výpočet bodu protínáním vpřed z úhlů

Jsou dány body P_1 a P_2 svými souřadnicemi (viz. tabulka nahoře). Vypočítejte souřadnice bodu P_5 (2krát – z bodu 1 i z bodu 2), určeného protínáním vpřed pomocí zaměřených úhlů α , β (viz. obrázek níže).

$$\alpha = 49,5278^{\circ}$$
$$\beta = 53,9937^{\circ}$$



Souřadnicové výpočty III.

Zadání C6

1. Výpočet oboustranně připojeného a orientovaného polygonového pořadu

Jsou dány body P_1 , P_2 , P_3 a P_4 svými souřadnicemi (viz. tabulka níže). Zaměřeny byly úhly ω_1' , ω_3' , ω_5' , ω_6' , ω_7' a délky stran s_{1-5} , s_{5-6} , s_{6-7} , s_{7-3} (hodnoty uvedeny níže pod tabulkou). Vypočítejte souřadnice bodů P_5 , P_6 a P_7 .

Bod	Y (m)	X (m)
P_1	520 818,24	1 126 816,26
P_2	520 988,66	1 126 224,09
P_3	520 164,74	1 127 355,94
P_4	520 357,29	1 126 562,96

$$s_{1-5} = 189,16 \text{ m}$$

$$s_{5-6} = 240,95 \text{ m}$$

$$s_{6-7} = 210,60 \text{ m}$$

$$s_{7-3} = 250,49 \text{ m}$$

$$\omega_1' = 182,1440^\circ$$

$$\omega_3' = 26,8450^\circ$$

$$\omega_5' = 148,6590^\circ$$

$$\omega_6' = 230,4660^\circ$$

$$\omega_7' = 214,5690^\circ$$



Souřadnicové výpočty IV.

Zadání C6

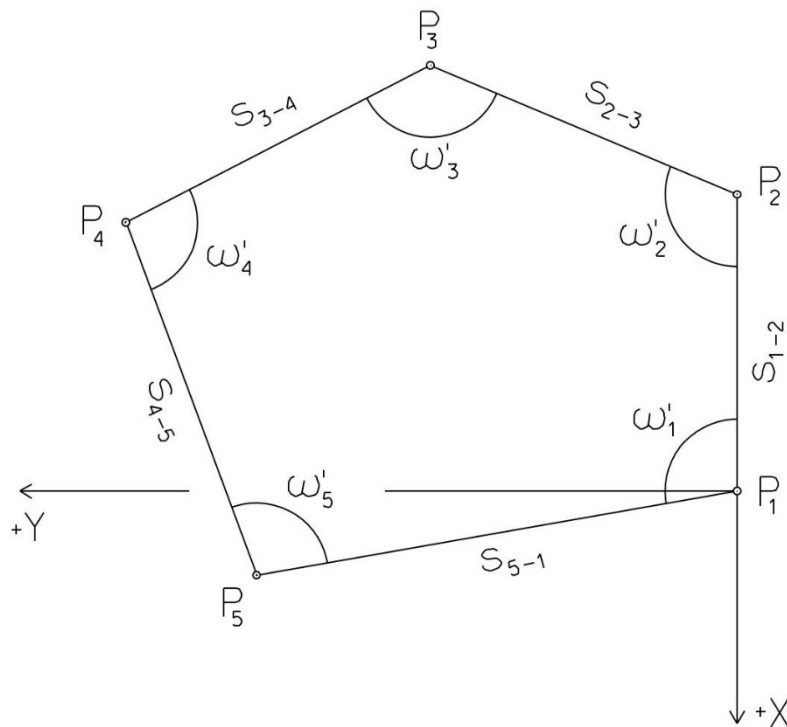
1. Výpočet uzavřeného, neorientovaného polygonového pořadu

Jsou zvoleny body P_1 , P_2 , P_3 , P_4 a P_5 , které tvoří uzavřený polygonový pořad. Zaměřeny byly úhly ω_1' , ω_2' , ω_3' , ω_4' , ω_5' a délky stran s_{1-2} , s_{2-3} , s_{3-4} , s_{4-5} , s_{5-1} (hodnoty uvedeny níže pod textem). Vypočítejte souřadnice bodů P_1 , P_2 , P_3 , P_4 , P_5 .

Pro polygonový pořad zvolte místní souřadnicovou soustavu tak, aby její počátek byl v bodě P_1 a směrník $\sigma_{1-2} = 180^\circ 00' 00''$, viz. obrázek dole. Při výpočtech uvádějte veškeré hodnoty úhlů, případně směrníků ve formátu „stupně – minuty – vteřiny“.

$s_{1-2} = 94,31 \text{ m}$
 $s_{2-3} = 172,28 \text{ m}$
 $s_{3-4} = 97,44 \text{ m}$
 $s_{4-5} = 133,11 \text{ m}$
 $s_{5-1} = 151,30 \text{ m}$

$\omega_1' = 122^\circ 51' 51''$
 $\omega_2' = 91^\circ 53' 33''$
 $\omega_3' = 116^\circ 40' 38''$
 $\omega_4' = 107^\circ 49' 56''$
 $\omega_5' = 100^\circ 45' 52''$



Souřadnicové výpočty V.

Zadání C6

1. Výpočet oboustranně připojeného, neorientovaného polygonového pořadu

Jsou dány body P_1 a P_2 svými souřadnicemi (viz. tabulka níže). Zaměřeny byly úhly ω_3' , ω_4' , ω_5' a délky stran s_{1-3} , s_{3-4} , s_{4-5} , s_{5-2} (hodnoty uvedeny níže pod tabulkou). Vypočítejte souřadnice bodů P_3 , P_4 a P_5 .

Bod	Y (m)	X (m)
P_1	521 032,38	1 122 440,12
P_2	521 115,78	1 123 101,38

$$s_{1-3} = 214,49 \text{ m}$$

$$\omega_3' = 240,2900^\circ$$

$$s_{3-4} = 146,22 \text{ m}$$

$$\omega_4' = 218,2000^\circ$$

$$s_{4-5} = 184,90 \text{ m}$$

$$\omega_5' = 205,8200^\circ$$

$$s_{5-2} = 182,60 \text{ m}$$

